



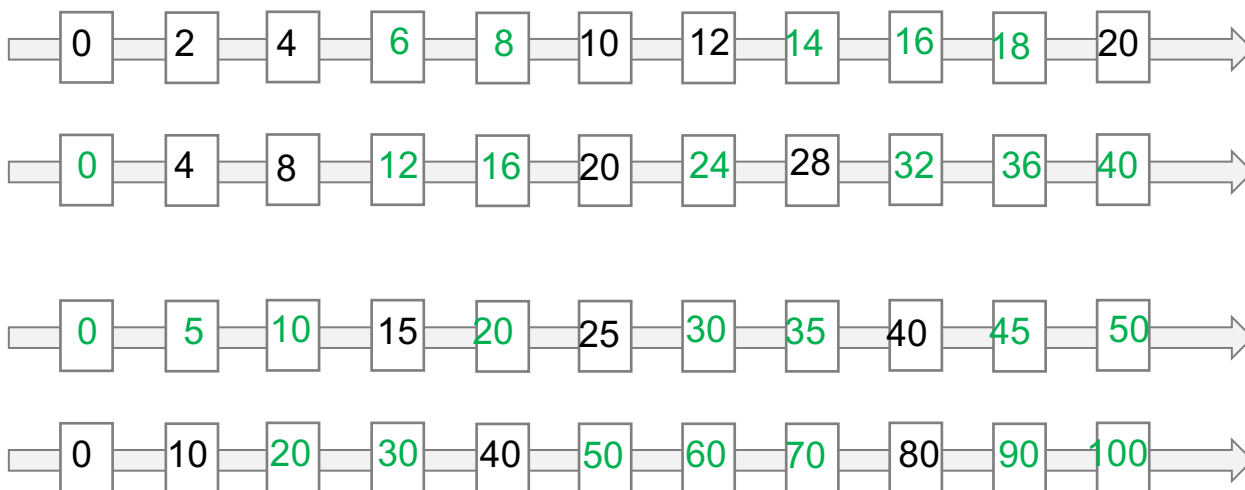
Prénom & Nom :

Date :

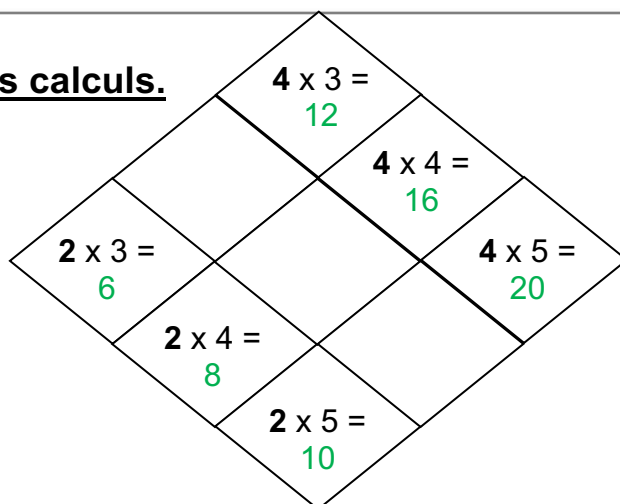
ie m'entraîne T4

Les tables par 2, 4, 5 et 10

① COMPLETE les cases blanches.



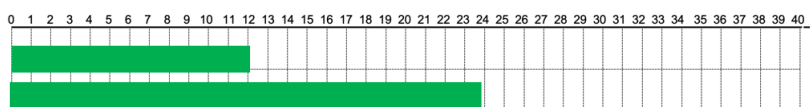
② RESOUS les calculs.



③ COLORIE pour obtenir...

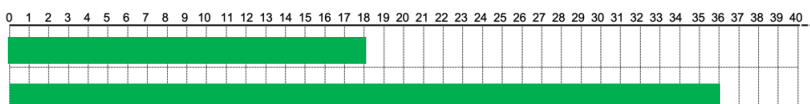
2 fois la bandelette 6 (2×6)

4 fois la bandelette 6 (4×6)




2 fois la bandelette 9 (2×9)

4 fois la bandelette 9 (4×9)



continue au verso





Prénom & Nom :

Date :

ie m'entraîne T4

Les tables par 2, 4, 5 et 10

④ COMPLETE les cases le plus vite possible.

	5		10		2		4		8
2 x	10	2 x	20	2 x	4	2 x	8	2 x	16
4 x	20	4 x	40	4 x	8	4 x	16	4 x	32

	5		10		2		4		8
5 x	25	5 x	50	5 x	10	5 x	20	5 x	40
10 x	50	10 x	100	10 x	20	10 x	40	10 x	80

⑤ ECRIS la réponse le plus rapidement possible.

$2 \times 5 = 10$	$2 \times 7 = 14$	$2 \times 9 = 18$	$2 \times 0 = 0$
$4 \times 5 = 20$	$4 \times 7 = 28$	$4 \times 9 = 36$	$4 \times 0 = 0$
$5 \times 3 = 15$	$5 \times 6 = 30$	$5 \times 5 = 25$	$5 \times 9 = 45$
$10 \times 3 = 30$	$10 \times 6 = 60$	$10 \times 5 = 50$	$10 \times 9 = 90$

⑥ RESOUS.

Ma voisine s'occupe de 3 chiens.
Combien y-a-t-il de pattes en tout ?
Il y a 12 pattes.



J'écris l'opération

$$3 \times 4 = 12$$



Ma voisine a 4 chiens et 3 perroquets.
Combien y-a-t-il de pattes en tout ?
Il y a 22 pattes.

J'écris l'opération

$$\begin{aligned}(4 \times 4) + (3 \times 2) \\ = 16 + 6 \\ = 22\end{aligned}$$

Sur mon bureau, il y a 4 pièces de 2€, 3 billets de 5€
et 6 billets de 10€. Quelle est la **somme** totale ?
J'ai 83 €.



J'écris l'opération

$$\begin{aligned}(4 \times 2) + (3 \times 5) + (6 \times 10) \\ = 8 + 15 + 60 \\ = 83\end{aligned}$$

